

NOM : .....



### Je mesure le temps.

1. Complète les phrases.

L'année civile commence le ..... et s'achève le .....

L'année scolaire commence le ..... et se termine le .....

Cette année nous sommes dans l'année scolaire ..... - .....

Nous sommes aujourd'hui le ..... Je peux aussi l'écrire .../.../...

2. Complète les égalités.

1 an = ..... semaines = ..... jours

1 semaine = ..... jours

2 jours = ..... heures

1 heure = .....minutes

1/2 heure = .....minutes

3/4 d'heure = .....minutes

1 jour = ..... heures

1/2 jour = .....heures

2 heures = .....minutes

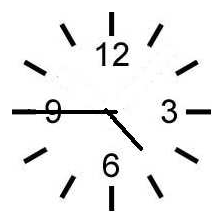
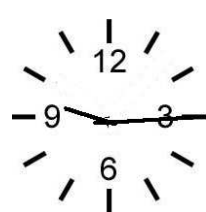


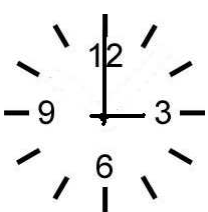
1/4 heure = .....minutes

1h 1/2 = .....minutes

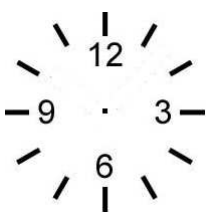
3. Complète le tableau.

| Les mois de 30 jours | Les mois de 31 jours |
|----------------------|----------------------|
|                      |                      |


4. Quelle heure est-il ?




5. A toi ! Dessine les aiguilles.




5 : 00




minuit



15 : 15



3 h moins quart



8 h et demie